

小5算

確認テスト (数と計算)

第5学年

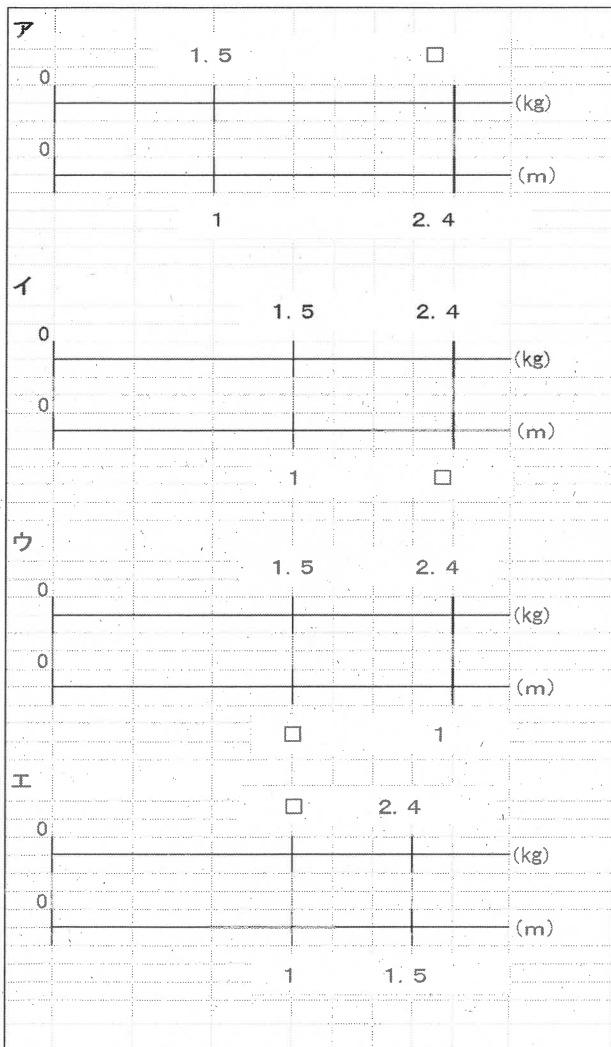
組

番

氏名

1 1mの重さが1.5kgの鉄のぼうがあります。このぼう2.4kgの長さを求めようと思います。正しい図と式を1つずつ選び、記号で答えなさい。

図



式

式	
カ	1.5×2.4
キ	$1.5 \div 2.4$
ク	$2.4 \div 1.5$
ケ	$1 \times (2.4 - 1.5)$

図	式

小5算

確認テスト (図形・量と測定)

第5学年

組

番

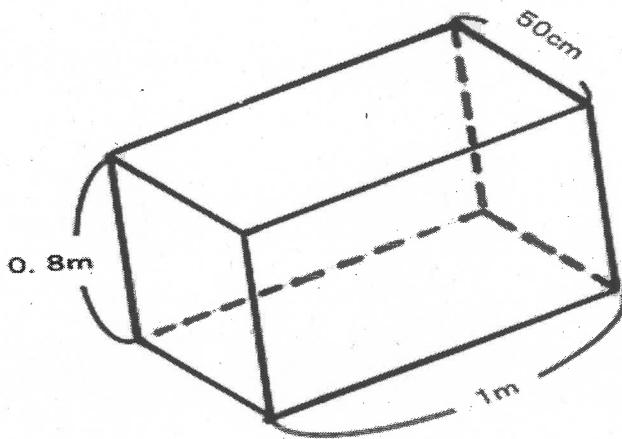
氏名

2

次のような直方体の体積を求めます。

- (1) 次の直方体の体積の求め方で、正しいものをア～オの中からすべて選び、記号を書きなさい。

直方体



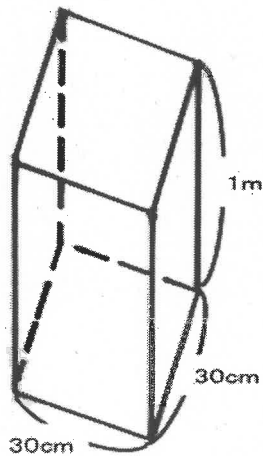
求め方

ア	$1 \times 50 \times 0.8$
イ	$1 \times 50 \times 80$
ウ	$1 \times 0.5 \times 0.8$
エ	$100 \times 5 \times 8$
オ	$100 \times 50 \times 80$

(1)

- (2) 次の直方体の体積を求め、単位をつけて答えなさい。

直方体



(2)