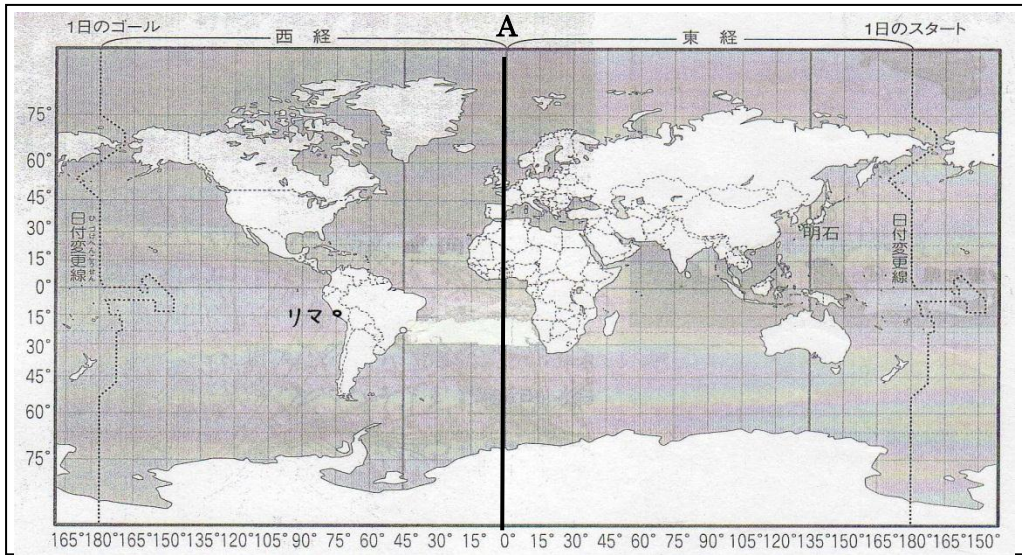


資料を見て、〔1〕～〔4〕の問いに答えなさい。

資料1 世界地図



〔1〕資料1の世界地図で、経度0度のAの経線を何というか書きなさい。

①

〔2〕経度15度離れた地点での時差は何時間生じるか書きなさい。

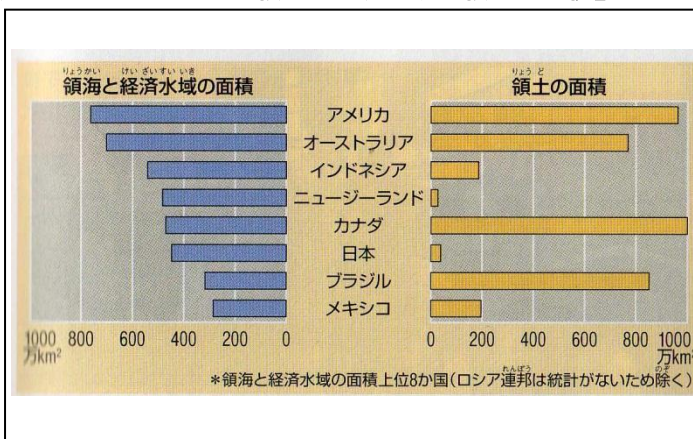
②

〔3〕今年、日本の富岡製糸場と絹産業遺産群が去年の富士山に続いて世界遺産に登録されました。同じく世界遺産に登録されているマチュ・ピチュの歴史保護区はペルーにあります。そこで、ペルーの首都リマに住んでいる中学生と日本の中学生がテレビ電話でお互いの世界遺産について紹介し合うことになりました。ペルーのリマの時間で7月12日午後6時に日本に電話をすると、日本での時刻は7月何日の何時でしょうか。資料1の世界地図を参考にして書きなさい。時刻には、必ず午前か午後をつけて書きなさい。(ただし、日本は東経135度の経線上の時刻を、リマは西経75度の経線上の時刻を標準時とします。)

③

〔4〕資料2と資料3を見て、なぜ日本の経済水域が国土面積のわりに大きいのか、その理由を説明しなさい。

資料2 「おもな国の領海・経済水域と領土の面積」



資料3 「日本の領域と経済水域」




④

- ② ごうきさんのクラスは、「中世の日本」について資料1のような学習問題をつくり、学習を進めていくことにしました。年表と資料を見て、[1]～[3]の問いに答えなさい。

資料1 「ごうきさんのクラスの学習問題」

「中世の日本」

- ① 政治には、どのような特色があったのか
- ② 日本と東アジア世界には、どのようなかかわりがあったのか
- ③ 社会や文化には、どのような特色があったのか

年表

時代区分	年	おもなできごと
古代	1016年	藤原道長が摂政となる
	1052年	藤原頼通が平等院鳳凰堂を建てる
	1086年	白河上皇が院政を始める
中世	1167年	平清盛が太政大臣になる
	1192年	源頼朝が征夷大将軍になる
	1274年	文永の役
	1281年	弘安の役
	1336年	後醍醐天皇が吉野に移る
	1378年	足利義満が室町に幕府を移す
	1404年	勘合貿易が始まる
	1467年	応仁の乱が始まる

右側の注釈: A (1016-1086年), B (1336-1467年), 矢印 (1167-1281年)

[1] ごうきさんたちは、資料1の学習問題①から、「どのような人たちが政治を行っていたのか」を考えました。

中世の政治の特色について、年表中のAからBにかけての変化に着目してまとめました。まとめとしてふさわしいものを、次のア～エの中から一つ選び、記号を書きなさい。

- ア 武士中心の政治から貴族中心の政治へ変化した
- イ 貴族中心の政治から天皇中心の政治へ変化した
- ウ 貴族中心の政治から武士中心の政治へ変化した
- エ 僧侶中心の政治から武士中心の政治へ変化した

⑤

[2] たくまさんたちは、資料1の学習問題②について調べていると、資料2の元軍と戦う武士の絵に出会いました。たくまさんたちは、この資料から幕府軍が苦戦している様子に気がつきました。なぜ、苦戦しているのかを元軍の戦法と武器に着目して説明しなさい。

資料2 「元軍と戦う武士」




⑥

③ 年表と資料を見て, [1] ~ [4] の問いに答えなさい。

年表

年	江戸幕府の政治・外交	人々の暮らし・文化
1603年	徳川家康が江戸幕府を開く 明との貿易が行われる・・・A	幕府領が全国の4分の1を占める
1615年	武家諸法度が定められる	
1637年	島原・天草の一揆がおこる	
1639年	3代将軍家光による鎖国政策・・・B	
(17世紀末から 18世紀初め)	キリスト教の禁止 ポルトガル人の来航禁止 →貿易できるのはオランダ船・中国船のみ	上方中心の町人文化である元禄文化が栄える
1787年 (19世紀初め)	老中松平定信の政策が行われる・・・C	江戸中心の町人文化である化政文化が栄える ・・・D

資料1 「貿易で必要とされた書状」

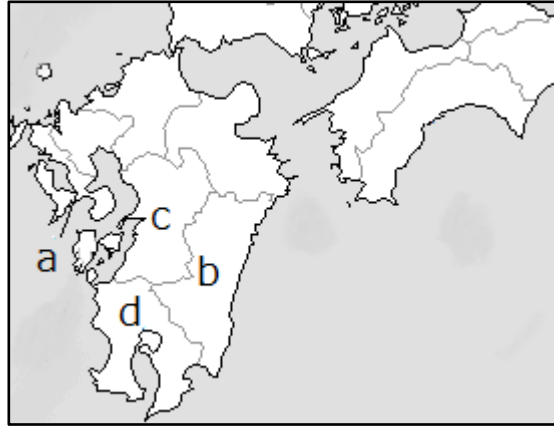


[1] 年表中Aの貿易では、資料1の書状が使用されていました。そのため、この貿易は何と呼ばれましたか、次のア～エの中から一つ選び、記号で答えなさい。

- ア 勘合貿易      イ 朱印船貿易      ウ 南蛮貿易      エ 日宋貿易

資料2 「地図」

⑦



[2] 年表中Bについて、鎖国政策により外交窓口も制限されることになりました。その際、許可された窓口の1つである出島がある県はどこですか。資料2のa～dから選び、記号で答えなさい。

⑧

[3] 年表中Cについて、松平定信が行った寛政の改革の説明文として正しいものをア～エの中から一つ選び、記号で答えなさい。

- ア 株仲間を認めて営業を独占させた。  
イ 公事方御定書をつくり裁判の基準とした。  
ウ 旗本や御家人の借金を帳消しにした。  
エ 株仲間を解散させた。

⑨

[4] 年表中Dについて、つよしさんたちが化政文化について説明しています。この中で間違った説明をしている人を一人選び、その名前を書きなさい。



つよしさん

幕府の政治や民衆の生活をおもしろおかしく表現した狂歌や川柳が好まれました。

堺では千利休が茶の湯を大成させたり、京都では出雲の阿国が歌舞伎を披露したりしました。



あいこさん



けいこさん

葛飾北斎や喜多川歌麿、歌川（安藤）広重らが人びとの日常の生活や風物などを浮世絵にしてあらわしました。

十返舎一九が町人の旅の道中のようすをこっけいにえがいた「東海道中膝栗毛」を出版しました。



かずやさん

⑩